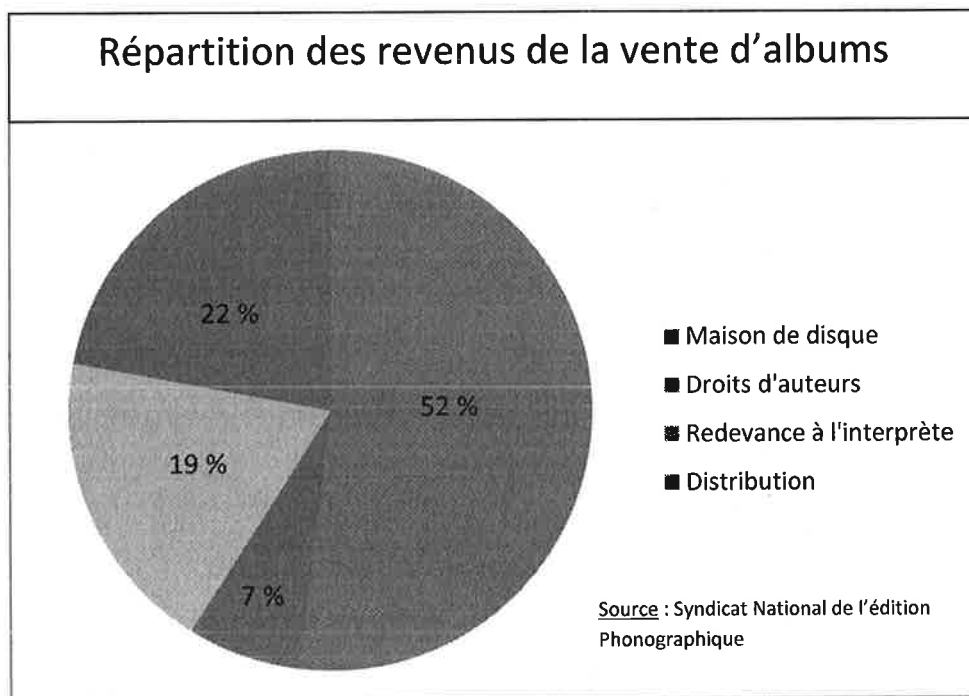


## Combien gagne vraiment un artiste?

Dans cette activité, vous serez invités à explorer les montants d'argent impliqués dans la vente de musique ainsi que l'argent que ces ventes impliquent pour les artistes et les compagnies de disques.

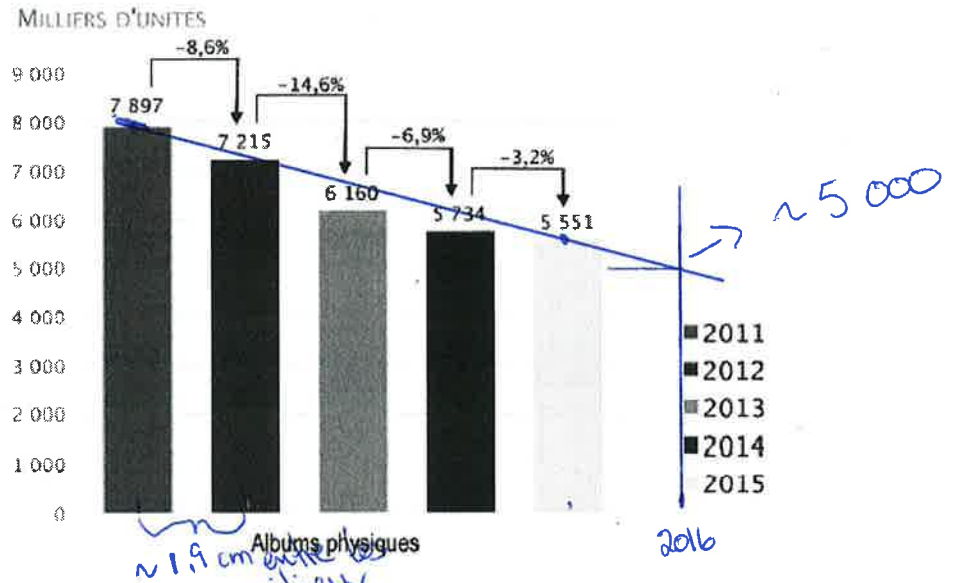
Voici dans un premier temps un diagramme circulaire représentant la répartition des revenus de la vente d'albums.



Vous trouverez à la page suivante les statistiques de vente de musique au Québec de 2011 à 2015.



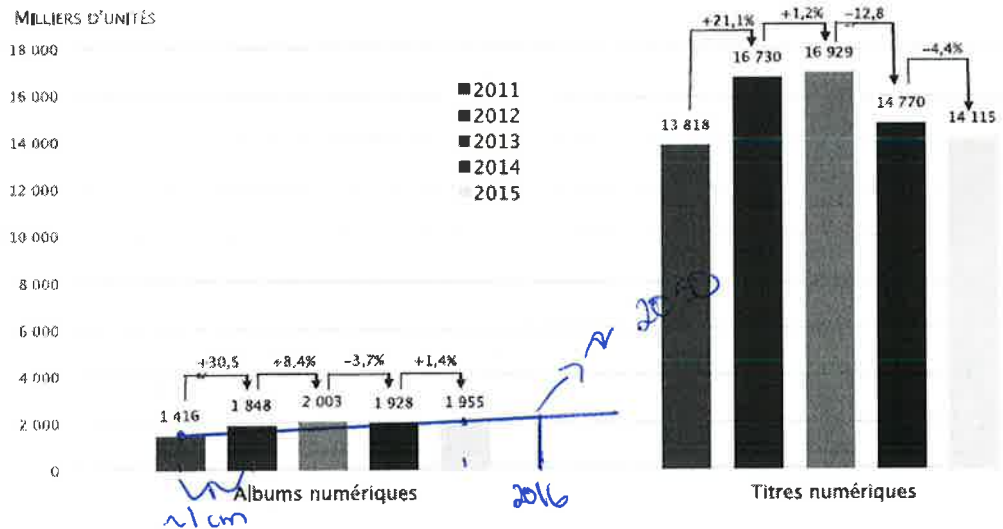
## NOMBRE D'ENREGISTREMENTS SONORES<sup>1</sup> VENDUS SUR SUPPORT PHYSIQUE AU QUÉBEC



Source : Nielsen SoundScan, compilation par l'OCCQ. Analyse de l'ADISQ.



## NOMBRE D'ENREGISTREMENTS SONORES VENDUS EN FORMAT NUMÉRIQUE AU QUÉBEC



Source : Nielsen SoundScan, compilation par l'OCCQ. Analyse de l'ADISQ.

À partir des données aux pages précédentes, répondez aux questions suivantes (supposez qu'un album se vend 15\$):

Combien un artiste doit-il vendre d'albums pour atteindre le seuil de faible revenu? (Le seuil de faible revenu au Canada pour une personne seule est fixé à un revenu annuel de 18 421\$ en 2014)

$$\text{revenu par album: } 15 \times 19\% = 2,85$$

$$\text{nb d'albums à vendre: } 18\,421 \div 2,85 \approx 6463,5$$

⇒ il doit vendre 6464 albums

Combien un artiste doit-il vendre d'albums pour gagner autant que la moyenne des québécois de 16 ans et plus travaillant à temps plein? (Cette moyenne s'établit à 51 000\$)

$$51\,000 \div 2,85 = 17\,543,86$$

⇒ il doit vendre 17 544 albums

Combien d'artistes peuvent vivre au même niveau de revenu que la moyenne des travailleurs à temps plein au Québec selon les ventes de 2015 au Québec?

ventes totales de 2015 (albums seulement)

$$(5\,551\,000 + 1\,955\,000) \div 17\,544 \approx 427,8$$

↑  
albums physiques  
vendus (2015)

↑  
albums numériques  
vendus (2015)

⇒ environ 428 artistes peuvent vivre au  
revenu moyen.

Y a-t-il quelque chose dont on n'a pas tenu compte dans les derniers calculs? Est-ce que les artistes doivent vendre plus ou moins d'albums que ce qui a été calculé précédemment pour vraiment atteindre les revenus espérés?

Ils doivent en vendre plus car ils ont pour la plupart des dépenses supplémentaires (choristes, musiciens) ou font partie d'un groupe, ils doivent donc partager leurs revenus sur les ventes de disques

À la lumière de toutes ces données, croyez-vous que la majorité des musiciens vivent de leur musique?

Les élèves doivent comprendre ici que non, la majorité des musiciens ne peuvent pas vivre de leur musique, 428 artistes, c'est bien peu, d'autant plus que les chiffres de vente au Québec incluent les ventes d'albums d'artistes étrangers. Le Québec ne fait donc pas vivre 428 artistes québécois au revenu moyen des travailleurs à temps plein

Si la tendance se maintient...

Faites une prédiction plausible du nombre d'albums qui seront vendus au Québec en 2016.

Plusieurs démarches possibles en 1102, la plus simple est probablement d'estimer avec une droite de tendance (voir p.2)

$$\Rightarrow 5\,000\,000 + 2\,050\,000 = 7\,050\,000 \text{ d'albums environ}$$